



IWW-Studienprogramm

Vertiefungsstudium

Modul XIV: „Unternehmensgründung und -bewertung“

Früher „Gründungscontrolling“

1. Musterklausur

(120 Punkte)

Zu Übungszwecken können Sie die Klausur auf Ihrem Rechner abspeichern, mit einem PDF-Reader öffnen und Ihre Lösungen in die vorgesehenen Antwortfelder eintragen.

Das Werk ist urheberrechtlich geschützt. Die dadurch begründeten Rechte, insbesondere das Recht der Vervielfältigung und Verbreitung sowie der Übersetzung und des Nachdruckes, bleiben, auch bei nur auszugsweiser Verwertung, vorbehalten. Kein Teil des Werkes darf in irgendeiner Form (Druck, Fotokopie, Mikrofilm oder ein anderes Verfahren) ohne schriftliche Genehmigung des IWW – Institut für Wirtschaftswissenschaftliche Forschung und Weiterbildung GmbH reproduziert oder unter Verwendung elektronischer Systeme verarbeitet, vervielfältigt oder verbreitet werden. Dies gilt auch für jede Form der Kommunikation zwischen den Studierenden des IWW.

Aufgabe 1**45 Punkte**

Der auf einem vollkommenen Kapitalmarkt agierenden RUHRTWORKCAPITAL LIMITED bietet sich die Möglichkeit, eine Investition mit dem (in $t = 0$ beginnenden) Zahlungsstrom $\mathbf{g} = (-5.000, 2.000, 2.000, 2.000)$ zu tätigen. Es ist von einem Kalkulationszinssatz von 10% p.a. auszugehen.

- a) Berechnen Sie den Kapitalwert der Investition, und interpretieren Sie ihn ökonomisch! Ist die Investition vorteilhaft? **8 P.**

Der RUHRTWORKCAPITAL LIMITED bietet sich eine weitere Investitionsmöglichkeit. Die Investition hat den (in $t = 0$ beginnenden) Zahlungsstrom $\mathbf{g} = (-3.500, 1.800, 1.400, 1.300)$. Der Kalkulationszinssatz beträgt 10% p.a.

- c) Berechnen Sie den Kapitalwert der Investition! Ist die Investition vorteilhaft? **5 P.**

- d) Berechnen Sie die Annuität und den zusätzlichen Endwert der Investition! **10 P.**


Aufgabe 2

40 Punkte

- a) Nennen Sie fünf mögliche Datenquellen, die zur statistischen Ermittlung des Gründungsgeschehens in Deutschland hauptsächlich herangezogen werden können! **5 P.**




- a) Erläutern Sie die in a) genannten Datenquellen! Beschreiben Sie dabei insbesondere auch die jeweiligen Nachteile, die mit der Nutzung dieser Quellen einhergehen! **35 P.**










Aufgabe 3

35 Punkte

- a) Die Nachfolgeplanung beinhaltet die Auswahl von Form und Gestaltung der Nachfolge. Welche Strukturdefekte kennzeichnen die Nachfolgeplanung als schlechtstrukturiertes, zunächst nicht lösbares Ausgangsproblem? **15 P.**





- b) Die auf die Frage der Wahl der Nachfolgeform und der Nachfolgegestaltung anzuwendende Heuristik beruht im Grundsatz auf fünf verschiedenen Transformationsschritten. Erläutern Sie die Transformationsschritte in aller Ausführlichkeit! **20 P.**

